



وزارت معارف

# ریاضی

## صنف اول

$$۵ = ۵$$

$$۶ < ۷$$

$$۴ > ۳$$

$$۴ - ۲ = ۲ \quad , \quad ۲ + ۳ = ۵$$





## سرود ملی

دا وطن افغانستان دی      دا عزت د هر افغان دی  
کور د سولې کور د تورې      هر بچی یې قهرمان دی  
دا وطن د ټولو کور دی      د بلوڅو د ازبکو  
د پښتون او هزاره وو      د ترکمنو د تاجکو  
ورسره عرب، کوچر دي      پامیریان، نورستانیان  
براهوي دي، قزلباش دي      هم ایماق، هم پشه یان  
دا هیواد به تل ځلیري      لکه لمر پر شنه آسمان  
په سینه کې د آسیا به      لکه زره وي جاویدان  
نوم د حق مودی رهبر      وایو الله اکبر وایو الله اکبر

بِسْمِ اللّٰهِ الرَّحْمٰنِ الرَّحِیْمِ



# ریاضی

## صنف اول

سال چاپ: ۱۳۹۸ هـ.ش.



## مشخصات کتاب

مضمون: ریاضی

مؤلفان: گروه مؤلفان کتاب‌های درسی دیپارتمنت ریاضی نصاب تعلیمی

ویراستاران: اعضای دیپارتمنت ویراستاری و ایدیت زبان دری

صنف: اول

زبان متن: دری

انکشاف دهنده: ریاست عمومی انکشاف نصاب تعلیمی و تالیف کتب درسی

ناشر: ریاست ارتباط و آگاهی عامه وزارت معارف

سال چاپ: ۱۳۹۸ هجری شمسی

مکان چاپ: کابل

چاپ‌خانه:

ایمیل آدرس: curriculum@moe.gov.af

حق طبع، توزیع و فروش کتاب‌های درسی برای وزارت معارف جمهوری اسلامی افغانستان محفوظ است. خرید و فروش آن در بازار ممنوع بوده و با متخلفان برخورد قانونی صورت می‌گیرد.

## پیام وزیر معارف

اقراً باسم ربك

سپاس و حمد بیکران آفریدگار یکتایی را که بر ما هستی بخشید و ما را از نعمت بزرگ خواندن و نوشتن برخوردار ساخت، و درود بی پایان بر رسول خاتم - حضرت محمد مصطفی ﷺ که نخستین پیام الهی بر ایشان «خواندن» است.

چنانچه بر همه گان هویدا است، سال ۱۳۹۷ خورشیدی، به نام سال معارف مسمی گردید. بدین ملحوظ نظام تعلیم و تربیت در کشور عزیز ما شاهد تحولات و تغییرات بنیادینی در عرصه های مختلف خواهد بود؛ معلم، متعلم، کتاب، مکتب، اداره و شوراهای والدین، از عناصر شش گانه و اساسی نظام معارف افغانستان به شمار می روند که در توسعه و انکشاف آموزش و پرورش کشور نقش مهمی را ایفا می نمایند. در چنین برهه سرنوشت ساز، رهبری و خانواده بزرگ معارف افغانستان، متعهد به ایجاد تحول بنیادی در روند رشد و توسعه نظام معاصر تعلیم و تربیت کشور می باشد.

از همین رو، اصلاح و انکشاف نصاب تعلیمی از اولویت های مهم وزارت معارف پنداشته می شود. در همین راستا، توجه به کیفیت، محتوا و فرایند توزیع کتاب های درسی در مکاتب، مدارس و سایر نهادهای تعلیمی دولتی و خصوصی در صدر برنامه های وزارت معارف قرار دارد. ما باور داریم، بدون داشتن کتاب درسی باکیفیت، به اهداف پایدار تعلیمی در کشور دست نخواهیم یافت.

برای دستیابی به اهداف ذکر شده و نیل به یک نظام آموزشی کارآمد، از آموزگاران و مدرسان دلسوز و مدیران فرهیخته به عنوان تربیت کننده گان نسل آینده، در سراسر کشور احترامانه تقاضا می گردد تا در روند آموزش این کتاب درسی و انتقال محتوای آن به فرزندان عزیز ما، از هر نوع تلاشی دریغ نورزیده و در تربیت و پرورش نسل فعال و آگاه با ارزش های دینی، ملی و تفکر انتقادی بکوشند. هر روز علاوه بر تجدید تعهد و حس مسؤولیت پذیری، با این نیت تدریس را آغاز کنند، که در آینده نزدیک شاگردان عزیز، شهروندان مؤثر، متمدن و معماران افغانستان توسعه یافته و شکوفا خواهند شد.

همچنین از دانش آموزان خوب و دوست داشتنی به مثابه ارزشمندترین سرمایه های فردای کشور می خواهیم تا از فرصت ها غافل نبوده و در کمال ادب، احترام و البته کنجکاوی علمی از درس معلمان گرامی استفاده بهتر کنند و خوشه چین دانش و علم استادان گرامی خود باشند.

در پایان، از تمام کارشناسان آموزشی، دانشمندان تعلیم و تربیت و همکاران فنی بخش نصاب تعلیمی کشور که در تهیه و تدوین این کتاب درسی مجدانه شبانه روز تلاش نمودند، ابراز قدردانی کرده و از بارگاه الهی برای آن ها در این راه مقدس و انسان ساز موفقیت استدعا دارم. با آرزوی دستیابی به یک نظام معارف معیاری و توسعه یافته، و نیل به یک افغانستان آباد و مرفعی دارای شهروندان آزاد، آگاه و مرفه.

دکتور محمد میرویس بلخی

وزیر معارف



## فهرست


صفحه	عنوان‌ها
۱.....	دوره آماده‌گی
۷.....	فصل اول: شمارش و شناخت اعداد تا ۹
۳۰.....	فصل دوم: جمع اعداد یک‌رقمی
۳۸.....	فصل سوم: تفریق اعداد یک‌رقمی از اعداد یک‌رقمی
۵۳.....	فصل چهارم: شمارش، خواندن و نوشتن اعداد تا ۲۰
۵۹.....	فصل پنجم: شناخت شکل‌های هندسی، خورد، کلان، سبک، سنگین، دراز و کوتاه
۶۷.....	فصل ششم: شمارش، خواندن و نوشتن تا ۹۹ و شناخت یک‌ها و ده‌ها
۸۴.....	فصل هفتم: جمع ده‌های پوره
۸۶.....	فصل هشتم: جمع اعداد دو رقمی با اعداد یک رقمی
۹۱.....	فصل نهم: تفریق دو عدد دو رقمی

# دوره آمادگی

هدف: آشنایی شاگردان با محیط مکتب




هدف: آشنایی شاگردان با صنف، همصنفان و شناخت طرف راست و چپ






هدف: شاگردان طرف راست و چپ را بشناسند.




هدف: شاگردان بالا و پایین را شناخته بتوانند.



هدف: شاگردان پیش‌روی، وسط و پشت سر را بشناسند.



هدف: شاگردان در شکل‌های بسته، داخل و خارج را از هم فرق کرده بتوانند.



شاگردان به شکل گروهی تقسیم شوند. پس از آن هر کدام در گروه شان پهلو به پهلو ایستاد شوند و شکل‌های بسته را مانند شکل‌های بالا تشکیل دهند. در هر گروه یک شاگرد داخل شکل قرار گیرد و یک شاگرد بیرون از شکل. هر دو حالت را از آن‌ها بپرسند.







فصل اول  
شمارش و شناخت اعداد تا ۹

درس اول










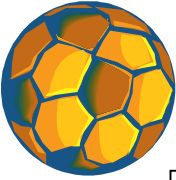





هدف: شاگردان عدد ۱ را بشناسند و طرز نوشتن آن را بفهمند.







 <input type="checkbox"/>	 <input type="checkbox"/>	  <input type="checkbox"/>
 <input type="checkbox"/>	 <input type="checkbox"/>	 <input type="checkbox"/>
 <input type="checkbox"/>	 <input type="checkbox"/>	 <input type="checkbox"/>
 <input type="checkbox"/>	 <input type="checkbox"/>	 <input type="checkbox"/>

کارخانه گی




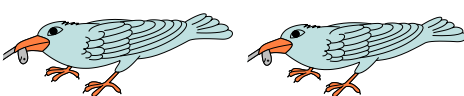



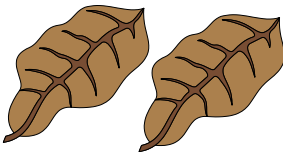
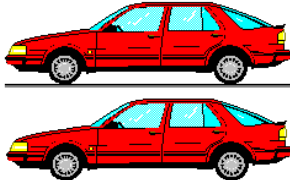
				⋮	⋮	⋮	⋮
--	--	--	--	---	---	---	---







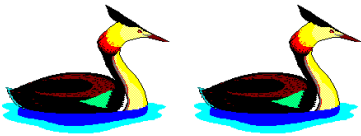
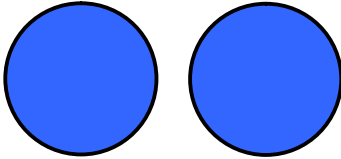
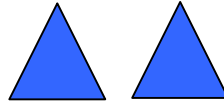

هدف: شاگردان عدد ۲ را بشناسند، خواندن و طرز نوشتن آن را بفهمند.



 <p style="text-align: right;">۲</p>	 <p style="text-align: right;">۲</p>
 <p style="text-align: right;">۲</p>	 <p style="text-align: right;">۲</p>
 <p style="text-align: right;">۲</p>	 <p style="text-align: right;">۲</p>
 <p style="text-align: right;">۲</p>	 <p style="text-align: right;">۲</p>
<p style="text-align: right;">۲</p>	 <p style="text-align: right;">۲</p>



مشق و تمرین عدد ۲



کارخانه گی

				۲	۲	۲	۲
--	--	--	--	---	---	---	---
















هدف: شاگردان عدد ۳ را بشناسند و اشیا را تا ۳ بشمارند، خوانده و نوشته کرده بتوانند.

<p style="text-align: right;">کارخانه گی</p> <table border="1" style="width: 100%; height: 80px;"> <tr> <td style="width: 15%;"></td> <td style="width: 15%;"></td> <td style="width: 15%;"></td> <td style="width: 15%;"></td> <td style="width: 15%; text-align: center;">۳</td> <td style="width: 15%; text-align: center;">۳</td> <td style="width: 15%; text-align: center;">۳</td> <td style="width: 15%; text-align: center;">۳</td> </tr> </table>						۳	۳	۳	۳
				۳	۳	۳	۳		

















 <input type="text" value="۳"/>	 <input type="text"/>	 <input type="text" value="۱"/>
 <input type="text"/>	 <input type="text"/>	 <input type="text"/>
 <input type="text"/>	 <input type="text"/>	 <input type="text"/>
<input type="text" value="۱"/>	<input type="text" value="۳"/>	<input type="text" value="۲"/>
 <input type="text"/>	 <input type="text"/>	<p>کارخانه‌گی</p>  <input type="text"/>



# شمارش و مقایسه اعداد توسط اشیا

هدف: شاگردان اشیا را از (۱-۳) بشمارند، اعداد را بشناسند، کم و زیاد را مقایسه کرده بتوانند.

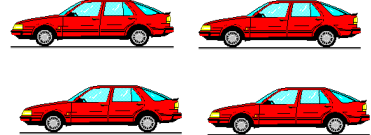




هدف: شاگردان عدد ۴ را بشناسند، اشیا را تا ۴ بشمارند، آن را خوانده و نوشته کرده بتوانند.




۴



۴



۴



۴



۴



۴




۴



۴


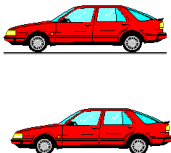
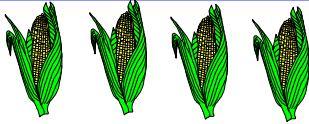




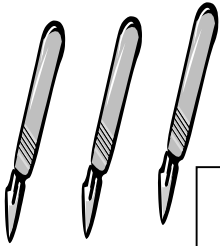







کارخانه گی








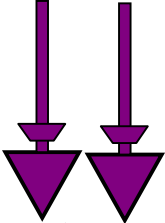











مشق و تمرین




 <input data-bbox="383 300 466 396" type="text"/>	 <input data-bbox="740 300 823 396" type="text"/>	 <input data-bbox="1075 319 1152 399" type="text" value="۴"/>
 <input data-bbox="383 590 466 685" type="text"/>	 <input data-bbox="740 590 823 685" type="text"/>	 <input data-bbox="1075 590 1152 685" type="text"/>
 <input data-bbox="383 875 466 971" type="text"/>	 <input data-bbox="740 875 823 971" type="text"/>	 <input data-bbox="1075 875 1152 971" type="text"/>
 <input data-bbox="383 1190 466 1285" type="text"/>	 <input data-bbox="740 1190 823 1285" type="text"/>	 <input data-bbox="1075 1190 1152 1285" type="text"/>
 <input data-bbox="383 1532 466 1627" type="text"/>	 <input data-bbox="740 1532 823 1627" type="text"/>	<p>کارخانه گی</p>  <input data-bbox="1075 1532 1152 1627" type="text"/>













 <p>۱ ۲ ۳ ۴</p>	 <p>۱ ۲ ۳ ۴</p>	 <p>۱ ۲ ۳ ④</p>
 <p>۱ ۲ ۳ ۴</p>	 <p>۱ ۲ ۳ ۴</p>	 <p>۱ ۲ ۳ ۴</p>
 <p>۱ ۲ ۳ ۴</p>	 <p>۱ ۲ ۳ ۴</p>	 <p>۱ ۲ ۳ ۴</p>
 <p>۱ ۲ ۳ ۴</p>	 <p>۱ ۲ ۳ ۴</p>	 <p>۱ ۲ ۳ ۴</p>
 <p>۱ ۲ ۳ ۴</p>	 <p>۱ ۲ ۳ ۴</p>	<p>کارخانه گی</p>  <p>۱ ۲ ۳ ۴</p>







هدف: شاگردان عدد ۵ را بشناسند، اشیا را تا ۵ بشمارند، آنرا خوانده و نوشته کرده بتوانند.



 <p>۵</p>	
 <p>۵</p>	 <p>۵</p>
 <p>۵</p>	 <p>۵</p>
 <p>۵</p>	 <p>۵</p>

کارخانه‌گی
















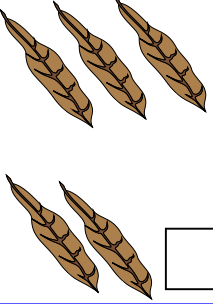
				
--	--	--	---	--





مشق و تمرین



 <input type="checkbox"/>	 <input type="checkbox"/>	 <input type="checkbox"/>	 <input type="checkbox"/>
 <input type="checkbox"/>	 <input type="checkbox"/>	 <input type="checkbox"/>	 <input type="checkbox"/>
 <input type="checkbox"/>	 <input type="checkbox"/>	 <input type="checkbox"/>	 <input type="checkbox"/>
 <input type="checkbox"/>	 <input type="checkbox"/>	 <input type="checkbox"/>	 <input type="checkbox"/>

۱		۳		۵
---	--	---	--	---

کارخانه گی










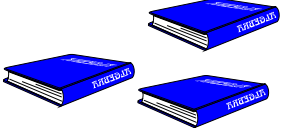




۱	۲			
---	---	--	--	--





# شناخت مساوی کم و زیاد

هدف: شناخت کم، زیاد و مساوی، آماده کردن شاگردان برای استعمال علامت‌های خورد، بزرگ و مساوی.













	
	
	
	
	
	
	



# درس هفتم

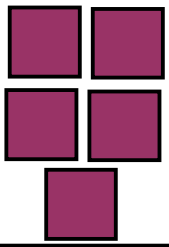

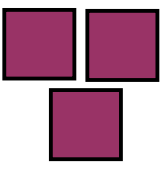











هدف: شناختن و نوشتن علامتهای (=، >، <) و کاربرد آن‌ها در جاهای مناسب

 $۳ = ۳$	 $۵ = ۵$
 $۴ > ۲$	 $۶ > ۳$
 $۲ < ۳$	 $۳ < ۴$
 $۵ > ۴$	 $۴ < ۵$
 $۳ < ۴$	 $۴ > ۳$
<b>کارخانه‌گی</b>	
	











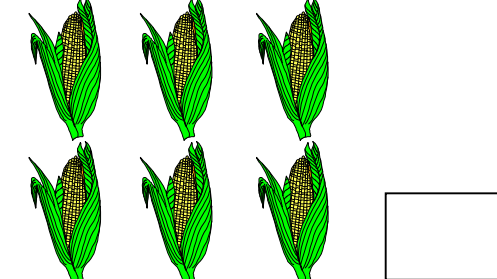






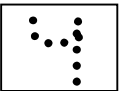
  	  
  	  
<p>۲ <input type="checkbox"/> ۴</p>	<p>۳ = ۳</p>
<p>۲ <input type="checkbox"/> ۲</p>	<p>۵ <input type="checkbox"/> ۴</p>
<p>۱ <input type="checkbox"/> ۳</p>	<p>۴ <input type="checkbox"/> ۳</p>
<p>۳ <input type="checkbox"/> ۵</p>	<p>کارخانه‌گی</p> <p>۵ <input type="checkbox"/> ۵</p>



# درس هشتم



هدف: شاگردان عدد ۶ را بشناسند، اشیا را تا ۶ بشمارند، آن را خوانده و نوشته کرده بتوانند.

					
					
					
					
<b>کارخانه گی</b>					
					














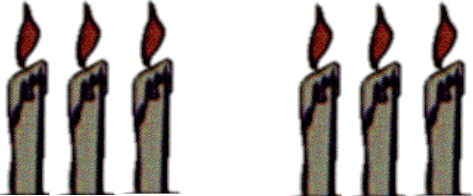
هدف: شاگردان اعداد ۷ و ۸ را بشناسند، اشیا را تا ۷ و ۸ شمار، خوانده و نوشته کرده بتوانند.


کارخانه‌گی




مشق و تمرین: کاربرد علامتها (> ، = ، <).



 $1 < 2$	 $4 > 3$	 $3 > 1$	 $2 < 4$
 $7$ <input type="text"/> $5$	 $4 = 4$		
 $3$ <input type="text"/> $5$	 $5$ <input type="text"/> $2$		
 $5$ <input type="text"/> $2$	<p>کارخانه‌گی</p>  $3$ <input type="text"/> $3$		





هدف: شاگردان علامت‌های ( $>$ ،  $<$  و  $=$ ) را در جاهای مناسب به کار برده بتوانند.

خانه‌های خالی زیر را توسط علامت‌های ( $>$ ،  $<$  و  $=$ ) پر کنید.

$۳ \square ۴$

$۵ \square ۴$

$۶ \square ۴$

$۸ \square ۶$

$۵ \square ۳$

$۳ \square ۳$

$۷ \square ۷$

$۸ \square ۷$

$۴ \square ۳$

$۲ \square ۴$

$۸ \square ۸$

$۶ \square ۵$

$۱ \square ۱$

$۷ \square ۸$

کارخانه‌گی

$۲ \square ۵$

$۵ \square ۲$

$۴ \square ۲$

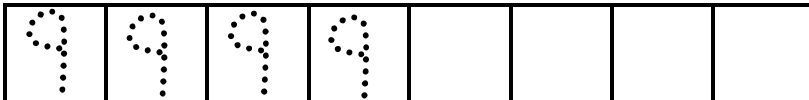
$۷ \square ۳$





هدف: شاگردان عدد ۹ را بشناسند و اشیا را تا ۹ بشمارند، خوانده و نوشته کرده بتوانند.

<p>۹</p>	<p>۹</p>
<p>۹</p>	<p>۹</p>
<p>۹</p>	<p>۹</p>
<p>۹</p>	<p>۹</p>



کارخانه گی




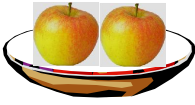
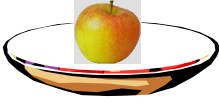




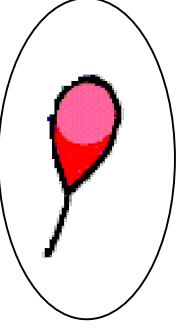
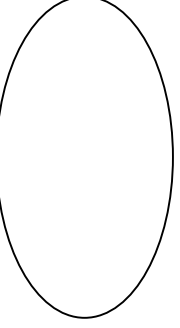









صفر

هدف: شاگردان عدد صفر را بشناسند.










				
۳	۲	۱		
				
۴	۳	۲	۱	۰
				
				
		۴		
		۵		
				
		۲		





مشق و تمرین



 <input type="text"/>	<input type="text"/>	 <input type="text"/>
<input type="text"/>	 <input type="text"/>	<input type="text"/>
<input type="text"/>	 <input type="text"/>	 <input type="text"/>
 <input type="text"/>	 <input type="text"/>	کارخانه گی <input type="text"/>



هدف: شاگردان علامت‌های ( $>$ ،  $<$  و  $=$ ) را در جاهای مناسب به کار برده بتوانند.

خانه‌های خالی را توسط علامت‌های مناسب ( $>$ ،  $<$ ،  $=$ ) پر کنید.

$8 \square 9$

$4 \square 4$

$9 \square 5$

$6 \square 6$

$3 \square 3$

$9 \square 0$

$5 \square 2$

$9 \square 8$

$6 \square 8$

$3 \square 4$

$7 \square 2$

$4 \square 9$

$0 \square 0$

$0 \square 5$

کارخانه‌گی

$7 \square 7$

$0 \square 1$

$7 \square 9$

$6 \square 7$




# فصل دوم

## جمع اعداد یک رقمی

درس دوازدهم



هدف: شاگردان جمع را به معنای یکجا شدن اشیای همجنس بدانند؛ همچنان علامت‌های (+ و =) را در عملیه جمع به کار برده بتوانند.



$$1 + 1 = 2$$



$$2 + 1 = 3$$















$$3 + 1 = 4$$

کارخانه گنی



هدف: شاگردان بتوانند که عملیۀ جمع اعداد را به طریق عمودی انجام دهند.


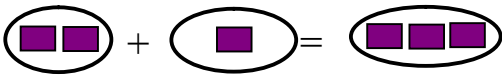
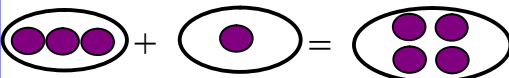





 $\begin{array}{r} 4 \\ + 1 \\ \hline 5 \end{array}$ 	 $\begin{array}{r} 2 \\ + 1 \\ \hline 3 \end{array}$ 
 $\begin{array}{r} 2 \\ + 1 \\ \hline 3 \end{array}$ 	 $\begin{array}{r} 3 \\ + 1 \\ \hline 4 \end{array}$ 
 $\begin{array}{r} 3 \\ + 2 \\ \hline 5 \end{array}$ 	 $\begin{array}{r} 2 \\ + 3 \\ \hline 5 \end{array}$ 



## درس سیزدهم

هدف: شاگردان بتوانند که عملیۀ جمع را به دو طریق (عمودی و افقی) انجام دهند.

































 $1 + 1 = 2$ $\begin{array}{r} 1 \\ + 1 \\ \hline 2 \end{array}$	 $2 + 1 = 3$ $\begin{array}{r} 2 \\ + 1 \\ \hline 3 \end{array}$
 $3 + 1 = 4$ $\begin{array}{r} 3 \\ + 1 \\ \hline 4 \end{array}$	 $4 + 1 = 5$ $\begin{array}{r} 4 \\ + 1 \\ \hline 5 \end{array}$
 $5 + 1 = 6$ $\begin{array}{r} 5 \\ + 1 \\ \hline 6 \end{array}$	<p>کارخانه‌گی</p>  $6 + 1 = 7$ $\begin{array}{r} 6 \\ + 1 \\ \hline 7 \end{array}$



# درس چهاردهم



هدف: شاگردان بدانند که با تغییر دادن جاهای اعداد، حاصل جمع تغییر نمی کند.

 +  $\begin{array}{r} 1 \\ + 2 \\ \hline 3 \end{array}$	 +  $\begin{array}{r} 2 \\ + 1 \\ \hline 3 \end{array}$	 +  $\begin{array}{r} 1 \\ + 3 \\ \hline 4 \end{array}$	 +  $\begin{array}{r} 3 \\ + 1 \\ \hline 4 \end{array}$
 +  $\begin{array}{r} 4 \\ + 1 \\ \hline 5 \end{array}$	 +  $\begin{array}{r} 1 \\ + 4 \\ \hline 5 \end{array}$	 +  $\begin{array}{r} 2 \\ + 3 \\ \hline 5 \end{array}$	 +  $\begin{array}{r} 3 \\ + 2 \\ \hline 5 \end{array}$
 +  $4 + 3 = 7$	 +  $3 + 4 = 7$	 +  $2 + 4 = 6$	 +  $4 + 2 = 6$
 +  $3 + 5 = 8$	 +  $5 + 3 = 8$	 +  $5 + 4 = 9$	 +  $4 + 5 = 9$





شاگردان در خانه‌های خالی، اعداد مناسب را که جواب هر بخش حاصل جمع، در قسمت بالایی همان بخش نوشته شده است بنویسند.

۲
۱ + <input type="text"/>
۰ + <input type="text"/>
۲ + <input type="text"/>

۳
۲ + <input type="text"/>
۰ + <input type="text"/>
۱ + <input type="text"/>
۳ + <input type="text"/>

۴
۲ + <input type="text"/>
۴ + <input type="text"/>
۰ + <input type="text"/>
۱ + <input type="text"/>
۳ + <input type="text"/>

۵
۴ + <input type="text"/>
۲ + <input type="text"/>
۳ + <input type="text"/>
۵ + <input type="text"/>
۰ + <input type="text"/>
۱ + <input type="text"/>

خانه‌های خالی  را مانند مثال حل شده ذیل پر نمایید.

$$۵ + \square = ۷$$

$$\square + ۱ = ۸$$

$$۵ + \square = ۸$$

$$\square + ۲ = ۷$$

$$۵ + \square = ۹$$

$$\square + ۴ = ۸$$

$$۵ + \square = ۶$$

$$\square + ۶ = ۹$$

$$\square + ۳ = ۸$$

$$\square + ۲ = ۸$$

$$۳ + \square = ۸$$

$$۲ + \square = ۹$$

کارخانه‌گی

$$۴ + ۵ = \square$$

$$\square + ۶ = ۹$$







در جاهای خالی اعداد مناسب را بنویسید.

$$\underline{3 + 5 = 8}$$

$7 + \square = 8$

$1 + \square = 8$

$4 + \square = 8$

$6 + \square = 8$

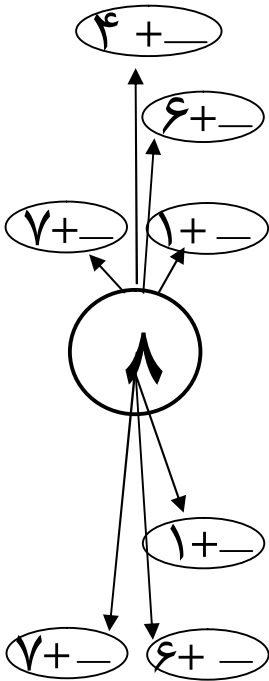
$5 + \square = 8$

$8 + \square = 8$

$2 + \square = 8$

1	7
+ 7	+ 1
<input style="width: 40px; height: 20px;" type="text"/>	<input style="width: 40px; height: 20px;" type="text"/>

2	6
+ 6	+ 2
<input style="width: 40px; height: 20px;" type="text"/>	<input style="width: 40px; height: 20px;" type="text"/>



کارخانه گی

3	5
+ 5	+ 3
<input style="width: 40px; height: 20px;" type="text"/>	<input style="width: 40px; height: 20px;" type="text"/>





در جاهای خالی اعداد مناسب را بنویسید.

$$5 + 4 = 9$$

5

+ 4

$$2 + \square = 9$$

$$0 + \square = 9$$

$$6 + \square = 9$$

$$3 + \square = 9$$

$$7 + \square = 9$$

$$1 + \square = 9$$


$$4 + \square = 9$$

$$9 + \square = 9$$

1	6
+ 8	+ 3

2	7
+ 7	+ 2

3	8
+ 6	+ 1



کارخانه‌گی

4

+ 5

$$8 + \square = 9$$



مشق و تمرین: کاربرد علامت‌های ( $>$ ،  $<$  و  $=$ ) در جاهای مناسب



مثال ۱

$$\left. \begin{array}{l} 4 + 2 \square 5 \\ 6 \square 5 \end{array} \right\}$$

مثال ۲

$$\left. \begin{array}{l} 2 + 2 \square 3 + 5 \\ 4 \square 8 \end{array} \right\}$$

$5 + 1 \square 3 + 1$

$2 + 4 \square 3 + 3$

$2 + 5 \square 5 + 1$

$4 + 5 \square 7 + 2$

$6 + 3 \square 8 + 1$

$7 + 2 \square 3 + 0$

$5 + 3 \square 7 + 1$

$6 + 0 \square 0 + 6$

$7 \square 8 + 1$

$1 + 4 \square 9$

$5 \square 7 + 1$

$3 + 2 \square 6$

$6 + 2 \square 7$

$5 + 1 \square 3$

$2 \square 1 + 5$

$4 + 2 \square 6$

کارخانه‌گی

$5 + 1 \square 3 + 2$

$3 + 4 \square 7$

$4 + 1 \square 7 + 1$

$7 \square 4 + 3$





# فصل سوم

درس پانزدهم


تفریق اعداد یکرقمی از اعداد یکرقمی




هدف: شاگردان بتوانند اشیا را بشمارند و تفریق کنند.



$$5 - 1 = 4$$




$$3 - 1 = 2$$



$$4 - 1 = 3$$



$$3 - 1 = 2$$




$$2 - 1 = 1$$




$$4 - 1 = 3$$



هدف: شاگردان در عملیۀ تفریق علامت‌های (= و -) را بشناسند.




$$4 - 2 = 2$$



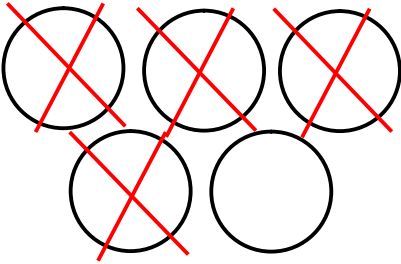
$$5 - 2 = 3$$




$$3 - 3 = 0$$




$$5 - 3 = 2$$



$$5 - 4 =$$




$$6 - 3 =$$



$$3 - 2 =$$

کارخانه‌گی



$$2 - 2 =$$



# درس شانزدهم



هدف: شاگردان عملیة تفریق را به طور افقی و عمودی انجام دهند.



$$4 - 2 = 2$$

$$\begin{array}{r} 4 \\ - 2 \\ \hline 2 \end{array}$$

$$3 - 1 = 2$$

$$\begin{array}{r} 3 \\ - 1 \\ \hline 2 \end{array}$$

$$4 - 3 =$$

$$\begin{array}{r} 4 \\ - 3 \\ \hline \end{array}$$

$$5 - 1 =$$

$$\begin{array}{r} 5 \\ - 1 \\ \hline \end{array}$$

$$\begin{array}{r} 5 \\ - 3 \\ \hline \end{array}$$

$$\begin{array}{r} 6 \\ - 2 \\ \hline \end{array}$$

کارخانه گی

$$3 - 2 =$$

$$\begin{array}{r} 3 \\ - 2 \\ \hline \end{array}$$





$$5 - 3 = 2$$

$$3 + 2 = 5$$

$$4 - 1 =$$

$$3 + 1 =$$

$$4 - 2 =$$

$$2 + 2 =$$

$$5 - 2 =$$

$$2 + 3 =$$

$$4 - 3 =$$

$$3 + 1 =$$

$$6 - 2 =$$

$$2 + 4 =$$

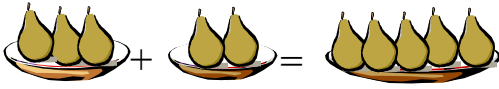
کارخانه‌گی

$$6 - 5 =$$

$$1 + 5 =$$



هدف: شاگردان ارزش صفر را در عملیه جمع بفهمند.



$$۳ + ۲ = ۵$$



$$۴ + ۱ = ۵$$



$$۳ + ۰ = ۳$$



$$۰ + ۵ = ۵$$

$$۲ + ۰ =$$

$$۰ + ۴ =$$

$$۶ + ۰ =$$

$$۵ + ۰ =$$

$$۰ + ۱ =$$

$$۰ + ۳ =$$

کارخانه گی

$$۰ + ۸ =$$

$$۷ + ۰ =$$







مشق و تمرین عملیه‌های جمع و تفریق به صورت افقی و عمودی



$$۸ - ۲ = \square$$

$$۵ + ۳ = \square$$

$$۷ - ۲ = \square$$

$$\square + ۵ = ۹$$

$$۵ - ۳ = \square$$

$$\square - ۲ = ۶$$

$$\square - ۲ = ۷$$

$$۵ - ۲ = \square$$

$$\square - ۳ = ۲$$

$$۵ - \square = ۲$$

$$\square - ۴ = ۲$$

$$\begin{array}{r} ۵ \\ - ۳ \\ \hline \end{array}$$

$$\begin{array}{r} ۴ \\ + ۲ \\ \hline \end{array}$$

$$\begin{array}{r} ۲ \\ + ۷ \\ \hline \end{array}$$

$$\begin{array}{r} ۷ \\ - ۴ \\ \hline \end{array}$$

$$\begin{array}{r} ۵ \\ + ۳ \\ \hline \end{array}$$

کارخانه‌گی

$$۸ - \square = ۵$$

$$\begin{array}{r} ۴ \\ + ۳ \\ \hline \end{array}$$




# درس هجدهم


هدف: شاگردان بتوانند صفر را از یک عدد تفریق کنند و باقی مانده را شمار کنند.




$$5 - 2 = 3$$



$$7 - 4 = 3$$



$$4 - 0 = 4$$



$$6 - 0 = 6$$

$$7 - 0 =$$

$$3 - 0 =$$

$$4 - 0 =$$

$$5 - 0 =$$

$$6 - 0 =$$

$$9 - 0 =$$

کارخانه گی

$$8 - 0 =$$

$$7 - 0 =$$



مشق و تمرین عملیه جمع

مانند مثال‌های حل شده دور جواب درست را حلقه بکشید.



$۱ + ۵ =$

۷   ۸   ⑥

$۸ + ۰ =$

۷   ۶   ⑧

$$\begin{array}{r} ۶ \\ + ۳ \\ \hline \end{array}$$

۷   ۶   ۹

$$\begin{array}{r} ۵ \\ + ۳ \\ \hline \end{array}$$

۸   ۷   ۹

$$\begin{array}{r} ۵ \\ + ۴ \\ \hline \end{array}$$

۹   ۶   ۸

$$\begin{array}{r} ۷ \\ + ۲ \\ \hline \end{array}$$

۷   ۹   ۸

$$\begin{array}{r} ۳ \\ + ۴ \\ \hline \end{array}$$

۷   ۶   ۵

$۰ + ۹ =$

۷   ۸   ۹

کارخانه‌گی

$۲ + ۵ =$

۵   ۶   ۷

$۱ + ۸ =$

۹   ۸   ۷





مشق و تمرین عملیۀ تفریق



مانند مثال‌های حل شدهٔ زیر، دور جواب درست حلقه بکشید.

$$\begin{array}{r} 7 \\ - 5 \\ \hline \end{array}$$

②

۳ ۵

$$\begin{array}{r} 8 \\ - 3 \\ \hline \end{array}$$

۶ ⑤ ۴

۸ - ۵ =

۱ ۲ ۳

۶ - ۴ =

۵ ۲ ۱

۹ - ۵ =

۴ ۳ ۲

۹ - ۸ =

۲ ۳ ۱

۸ - ۲ =

۷ ۶ ۵

۹ - ۴ =

۵ ۴ ۲

کارخانه‌گی

$$\begin{array}{r} 7 \\ - 3 \\ \hline \end{array}$$

۶ ۵ ۴

$$\begin{array}{r} 6 \\ - 2 \\ \hline \end{array}$$

۸ ۴ ۹





$$۸ + ۱ =$$

$$۵ + ۲ =$$

$$۶ - ۳ =$$

$$۳ + ۰ =$$

$$۴ + ۵ =$$

$$۸ - ۸ =$$

$$۷ + ۲ =$$

$$۹ - ۰ =$$

$$۹ - ۲ =$$

$$۶ + ۳ =$$

$$۷ - ۲ =$$

$$۷ - ۱ =$$

$$۵ + ۲ =$$

$$۵ + ۳ =$$

$$۶ + ۲ =$$

$$۶ - ۱ =$$

$$۸ + ۱ =$$

$$۴ + ۲ =$$

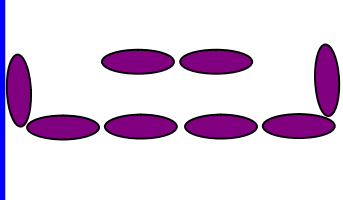
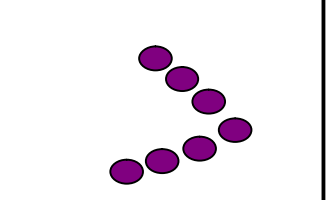
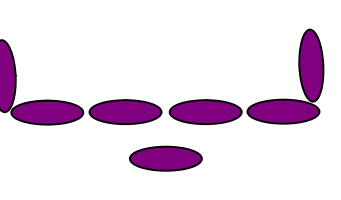
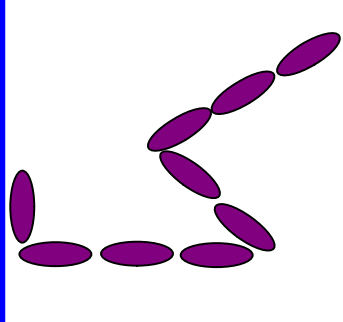



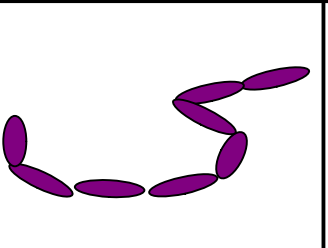
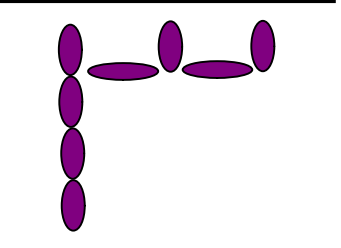
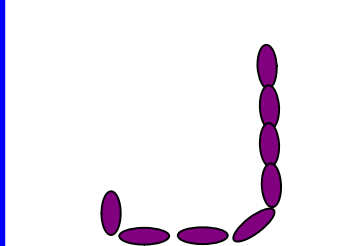

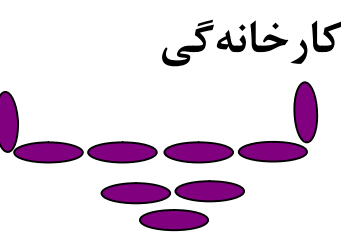
$$۶ - ۴ =$$

$$۰ + ۵ =$$

کارخانه‌گی



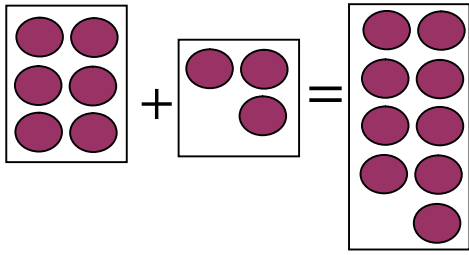


		
<p>۷ ۹ ۸</p>	<p>۹ ۷ ۶</p>	<p>۵ ۷ ۸</p>
		
<p>۹ ۷ ۶</p>	<p>۸ ۶ ۷</p>	<p>۸ ۹ ۷</p>
		
<p>۵ ۹ ۸</p>	<p>۷ ۸ ۹</p>	<p>۶ ۷ ۸</p>
		<p>کارخانه گی</p> 
<p>۷ ۸ ۹</p>	<p>۵ ۶ ۷</p>	<p>۷ ۸ ۹</p>

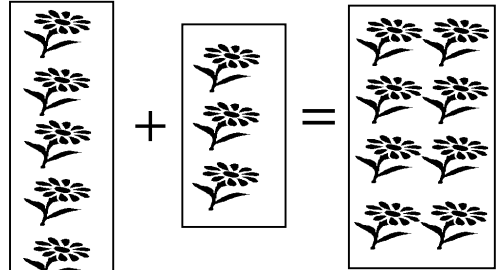


## درس نهم

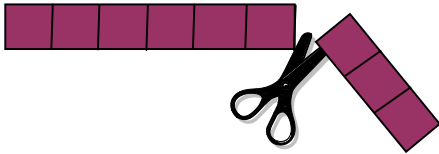
هدف: شاگردان با استفاده از شکل‌های زیر عملیۀ جمع و تفریق را انجام داده بتوانند.



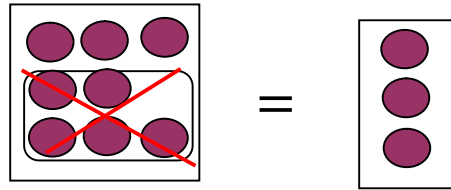
$$6 + 3 = 9$$



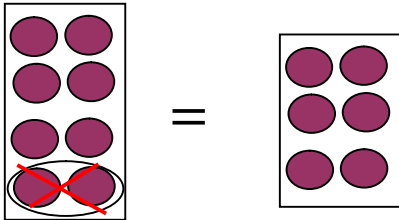
$$5 + 3 = 8$$



$$9 - 3 = 6$$



$$8 - 5 = 3$$



$$8 - 2 = 6$$

$$5 - 2 =$$

$$6 - 3 =$$

$$9 - 4 =$$

$$7 - 5 =$$

$$8 - 5 =$$

$$9 - 5 =$$





$$۸ + ۱ = ۹$$

$$۱ + ۸ = ۹$$

$$۶ + ۳ =$$

$$۳ + ۶ =$$

$$۲ + ۷ =$$

$$۷ + ۲ =$$

$$۵ + ۴ =$$

$$\begin{array}{r} ۶ \\ + ۲ \\ \hline ۸ \end{array}$$

$$\begin{array}{r} ۲ \\ + ۶ \\ \hline \end{array}$$

$$\begin{array}{r} ۸ \\ + ۱ \\ \hline ۹ \end{array}$$

$$\begin{array}{r} ۱ \\ + ۸ \\ \hline \end{array}$$

$$\begin{array}{r} ۵ \\ + ۴ \\ \hline ۹ \end{array}$$

$$\begin{array}{r} ۴ \\ + ۵ \\ \hline \end{array}$$

$$\begin{array}{r} ۳ \\ + ۶ \\ \hline ۹ \end{array}$$

$$\begin{array}{r} ۶ \\ + ۳ \\ \hline \end{array}$$

$$\begin{array}{r} ۷ \\ + ۲ \\ \hline ۹ \end{array}$$

$$\begin{array}{r} ۲ \\ + ۷ \\ \hline \end{array}$$

$$\begin{array}{r} ۵ \\ + ۳ \\ \hline ۸ \end{array}$$

$$\begin{array}{r} ۳ \\ + ۵ \\ \hline \end{array}$$

$$\begin{array}{r} ۶ \\ + ۲ \\ \hline ۸ \end{array}$$

$$\begin{array}{r} ۲ \\ + ۶ \\ \hline \end{array}$$

کارخانه گی





مشق و تمرین عملی جمع توسط جدولها

+							
۹	۸	۷	۶	۵	۴	۳	۲
	۱	۲					

+							
۸	۱	۲	۳	۴	۵	۶	۷
	۷	۶					

+					
۳	۵	۲	۱	۳	۴
۵			۷		۳
۸	۹	۷		۹	

+						
۵	۶	۲	۱	۷	۳	۴
۴		۶			۵	
۹	۹		۷	۸		۶

$1 + 1 = 2$

$1 + 2 = 3$

$1 + 3 = \quad 2 + 2 = 4$

$1 + 4 = \quad 2 + 3 =$

$1 + 5 = \quad 2 + 4 = \quad 3 + 3 = 6$


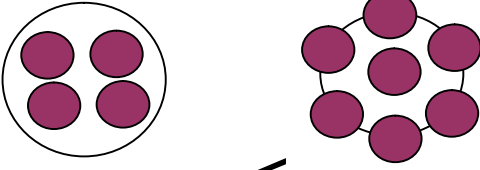

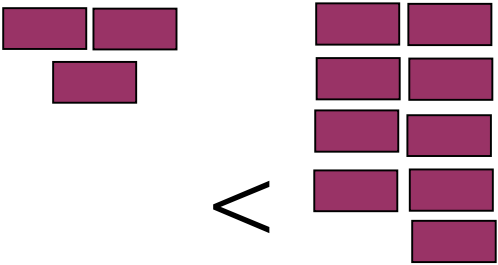

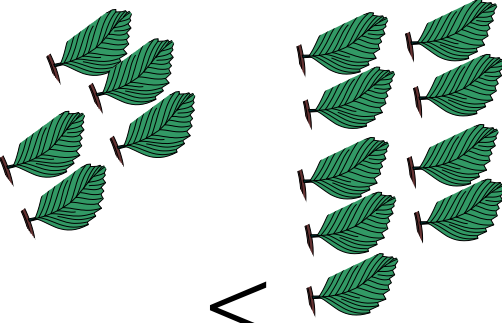
$1 + 6 = \quad 2 + 5 = \quad 3 + 4 =$

$1 + 7 = \quad 2 + 6 = \quad 3 + 5 = \quad 4 + 4 =$

$1 + 8 = \quad 2 + 7 = \quad 3 + 6 = \quad 4 + 5 =$



هدف: شاگردان شکل‌های زیر را شمار کرده بتوانند و تعداد اشیا را با هم مقایسه کنند.

 <p>۶ &gt; ۵</p>	 <p>&lt;</p>		
 <p>&gt;</p>	 <p>&lt;</p>		
 <p>&lt;</p>	 <p>&lt;</p>		
<p>۵ ۶</p>	<p>۷ ۸</p>	<p>۹ ۹</p>	<p>۷ &lt; ۸</p>
<p>۸ ۶</p>	<p>۴ ۸</p>	<p>۴ ۶</p>	<p>۷ ۳</p>
<p>کارخانه‌گی</p>			
<p>۵ ۸</p>	<p>۸ ۸</p>	<p>۶ ۷</p>	<p>۹ ۸</p>



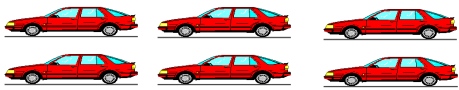











درس بیستم

شمارش، خواندن و نوشتن اعداد تا ۲۰


هدف: شاگردان عدد ۱۰ را بشناسند، اشیا را تا ۱۰ شمرده، خوانده و نوشته کرده بتوانند.

 ۱۰	 ۱۰										
 ۶	 ۱۰										
 ۵	 ۱۰										
 ۱۰	 ۷										
 ۱۰	 ۱۰										
<p style="text-align: right;">کارخانه‌گی</p> <table border="1" style="width: 100%; text-align: center;"> <tr> <td style="width: 10%;">۱</td> <td style="width: 10%;">۲</td> <td style="width: 10%;"></td> <td style="width: 10%;"></td> <td style="width: 10%;">۵</td> <td style="width: 10%;"></td> <td style="width: 10%;">۷</td> <td style="width: 10%;"></td> <td style="width: 10%;">۹</td> <td style="width: 10%;">۱۰</td> </tr> </table>		۱	۲			۵		۷		۹	۱۰
۱	۲			۵		۷		۹	۱۰		

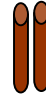



# درس بیست و یکم



هدف: شاگردان اعداد (۱۰-۲۰) را بشناسند.





۱ یک و ۱ ده





۲ یک و ۱ ده




۳ یک و ۱ ده





۴ یک و ۱ ده





۵ یک و ۱ ده





۶ یک و ۱ ده





۷ یک و ۱ ده



۸ یک و ۱ ده



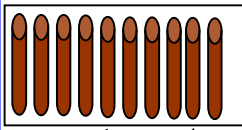
۹ یک و ۱ ده



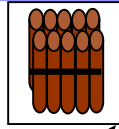
۱۰ یک و ۱ ده



هدف: شاگردان اعداد (۱۰-۲۰) را بشناسند و مفهوم یک‌ها و ده‌ها را بدانند.

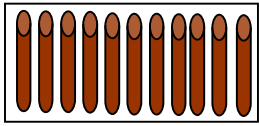


=




ده دانه یک

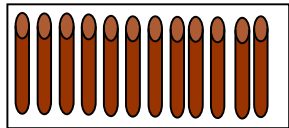
یک ده




=



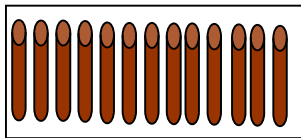
یازده (۱۱) = ۱ یک و ۱ ده




=



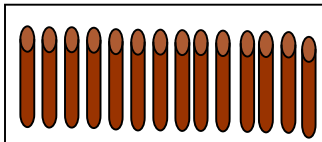
دوازده (۱۲) = ۲ یک و ۱ ده




=



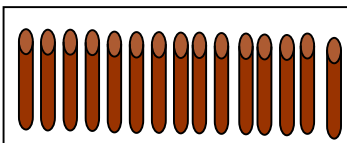
سیزده (۱۳) = ۳ یک و ۱ ده



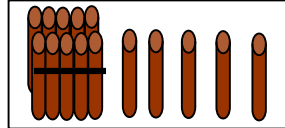
=



چهارده (۱۴) = ۴ یک و ۱ ده



=

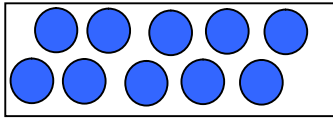


پانزده (۱۵) = ۵ یک و ۱ ده

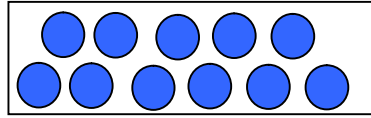


## درس بیست و دوم


هدف: شاگردان عدد ۱۰ را با عدد یک رقمی جمع کرده بتوانند.



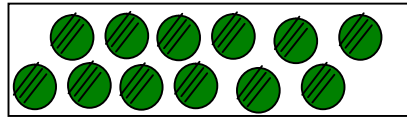
+ ● =




$$۱۰ + ۱ = ۱۱ = \text{یک و ده}$$




+ ●● =



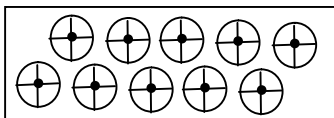
$$۱۰ + ۲ = ۱۲ = \text{دو و یک}$$



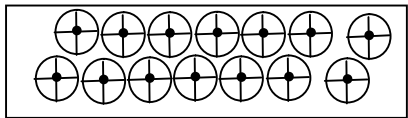
+ ●●● =



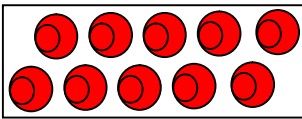
$$۱۰ + ۳ = ۱۳ = \text{سه و یک}$$



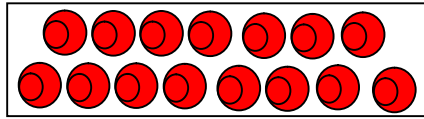
+ ●●●● =



$$۱۰ + ۴ = ۱۴ = \text{چهار و یک}$$



+ ●●●●● =




$$۱۰ + ۵ = ۱۵ = \text{پنج و یک}$$







هدف: شاگردان اعداد یک رقمی را با عدد ۱۰ جمع کرده بتوانند.




$$۱۰ + ۱ = ۱۱$$



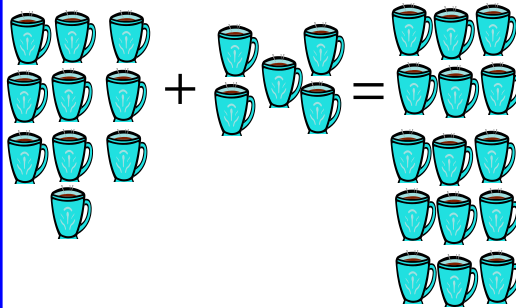
$$۱۰ + ۲ = ۱۲$$



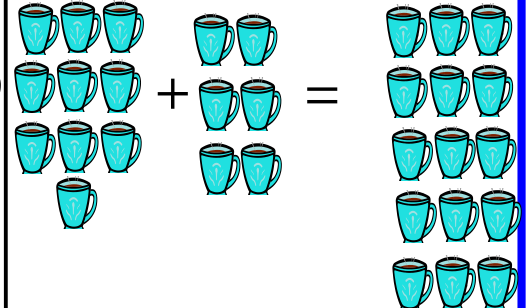
$$۱۰ + ۳ = ۱۳$$



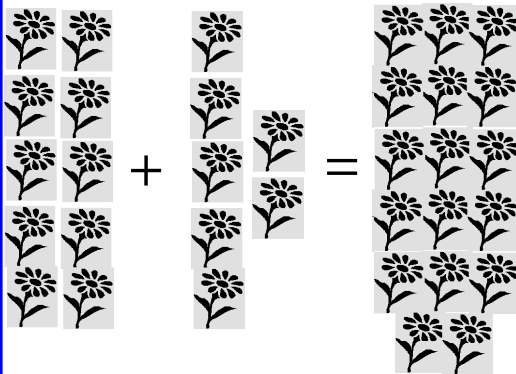
$$۱۰ + ۴ = ۱۴$$



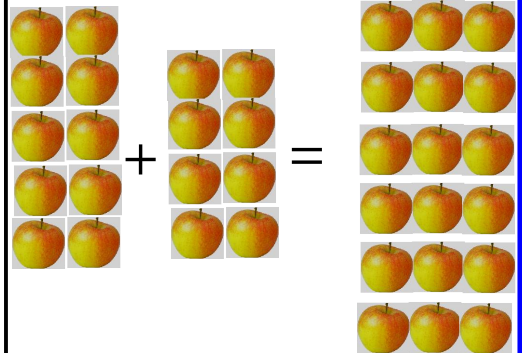
$$\square + \square = \square$$



$$\square + \square = \square$$



$$\square + \square = \square$$



$$\square + \square = \square$$





مشق و تمرین: خواندن و شناخت اعداد دو رقمی تا عدد ۲۰



۱۱

۱۲

۱۳

۱۴

۱۵

یازده

دوازده

سیزده

چهارده

پانزده

۱۶

۱۷

۱۸

۱۹

۲۰

شانزده

هفده

هژده

نزده

بیست

۱	۲		۴	
۶				۱۰
			۱۴	
		۱۸		



۱۴



کارخانه گی








## فصل پنجم

شناخت شکل‌های هندسی، خورد، کلان، سبک، سنگین، دراز و کوتاه

درس بیست و سوم




هدف: شاگردان راه مستقیم را بشناسند.



شکل بالا را ببینید و بگویید که شاگرد از کدام راه

زودتر به مکتب می‌رسد.



در شکل بالا راهی را نشان دهید که خرگوش

زودتر به زردک می‌رسد.



درس بیست و چهارم



هدف: شاگردان خط مستقیم را بشناسند و از دیگر خطها فرق کرده بتوانند.




کارخانه‌گی

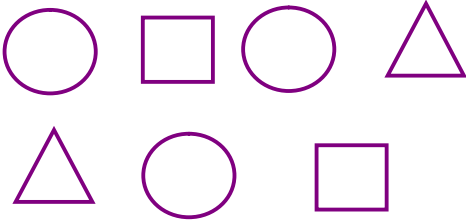


## درس بیست و پنجم

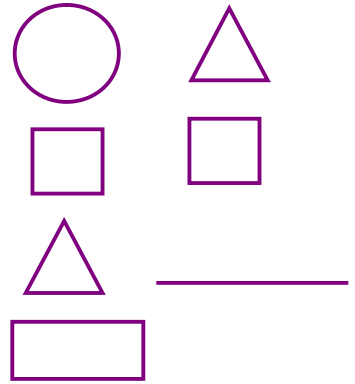
هدف: شاگردان شکل‌های هندسی را بشناسند و از یکدیگر فرق کرده بتوانند.




دور دایره حلقه بکشید



دور مثلث حلقه بکشید



کارخانه‌گی: دور مربع حلقه بکشید



## درس بیست و ششم


هدف: شاگردان اشیای خورد و کلان را به صورت عینی با هم مقایسه کنند.



## درس بیست و هفتم




هدف: شاگردان اشیای سبک و سنگین را دیده و از یکدیگر فرق کرده بتوانند.




هدف: شاگردان اشیای سبک و سنگین را طور عینی تشخیص کرده بتوانند.

تربوز از سیب سنگین تر است.  
سیب از تربوز سبک تر است.



کتاب از سنجاق سنگین تر است.  
سنجاق از کتاب سبک تر است.




\_\_\_\_\_ از \_\_\_\_\_ سنگین تر است.  
\_\_\_\_\_ از \_\_\_\_\_ سبک تر است.



\_\_\_\_\_ از \_\_\_\_\_ سنگین تر است.  
\_\_\_\_\_ از \_\_\_\_\_ سبک تر است.






سنگ پشت از موش سنگین تر است.  
\_\_\_\_\_ از \_\_\_\_\_ سبک تر است.



## درس بیست و نهم

هدف: شاگردان اشیای دراز و کوتاه را بشناسند و باهم مقایسه کرده بتوانند.





معلم صاحب از شاگردان بپرسد:

شما کدام روز هفته به مکتب نمی‌روید؟ شما کدام روز رخصت  
استید؟ ممکن شاگردان جواب بگویند، روز جمعه و اگر شاگردان  
نتوانستند جواب بگویند، معلم صاحب خودش بگوید، که روز  
جمعه است.

یک هفته ۷ روز است.

روز اول هفته، شنبه

روز دوم هفته، یکشنبه

روز سوم هفته، دو شنبه

روز چهارم هفته، سه شنبه

روز پنجم هفته، چهار شنبه

روز ششم هفته، پنجشنبه

روز هفتم هفته، جمعه.

از شاگردان بپرسد:

روز چهارم هفته به چه نام یاد می‌شود؟

روز سوم هفته به چه نام یاد می‌شود؟

روز ششم هفته به چه نام یاد می‌شود؟

روز اول هفته به چه نام یاد می‌شود؟









درس سی و یکم

شمارش خواندن و نوشتن اعداد تا ۹۹ و شناخت یکها و دهها


هدف: شاگردان اعداد دو رقمی از (۲۰-۲۹) را بخوانند و یکها و دهها این اعداد را بدانند.




دهها	یکها	۲۱
۲	۱	



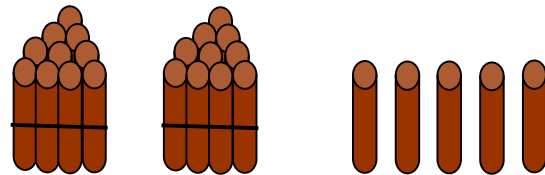
دهها	یکها	۲۲
۲	۲	



دهها	یکها	۲۳
۲	۳	



دهها	یکها	۲۴
۲	۴	



دهها	یکها	۲۵
۲	۵	


کارخانه‌گی: اعداد ۲۷، ۲۸ و ۲۹ را در بندل‌ها و جدول‌ها

ترتیب نمایید.




## درس سی و دوم

هدف: شاگردان رقم یک‌ها و ده‌های اعداد را بدانند.




ده‌ها	یک‌ها
۳	۰

۳۰




ده‌ها	یک‌ها
۳	۱

۳۱




ده‌ها	یک‌ها
۳	۲

۳۲



ده‌ها	یک‌ها
۳	۳

۳۳



ده‌ها	یک‌ها
۳	۴

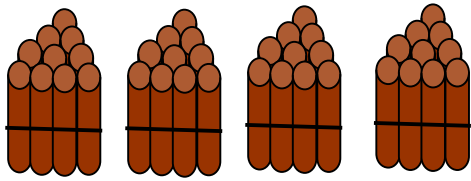
۳۴

کارخانه‌گی

در اعداد ۳۲، ۳۴، ۳۷ و ۳۸ یک‌ها و ده‌ها را در کتابچه‌های تان توسط جدول نشان دهید.




هدف: شاگردان رقم یک‌ها و ده‌های اعداد را بدانند.




ده‌ها	یک‌ها
۴	۰

۴۰




ده‌ها	یک‌ها
۴	۱

۴۱



ده‌ها	یک‌ها
۴	۲

۴۲



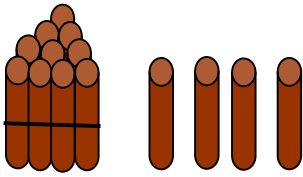
ده‌ها	یک‌ها
۴	۳

۴۳

### کارخانه‌گی


در اعداد ۴۵، ۴۶، ۴۷ و ۴۹ یک‌ها و ده‌ها را در کتابچه‌های تان توسط جدول نشان دهید.





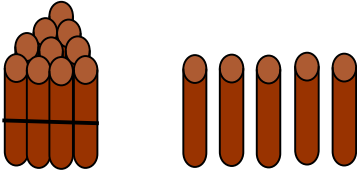
۱۴

۴ یکتایی و ۱ ده‌تایی




۲۴

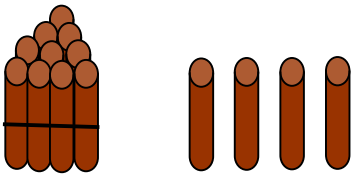
۴ یکتایی و ۲ ده‌تایی




— یکتایی و — ده‌تایی




— یکتایی و — ده‌تایی




— یکتایی و — ده‌تایی




— یکتایی و — ده‌تایی




— یکتایی و — ده‌تایی



— یکتایی و — ده‌تایی



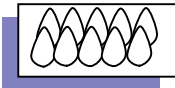
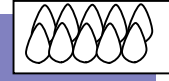
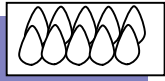
— یکتایی و — ده‌تایی



— یکتایی و — ده‌تایی


کارخانه‌گی





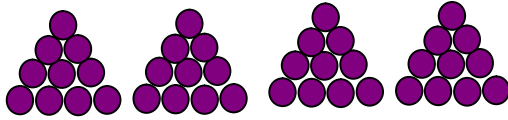
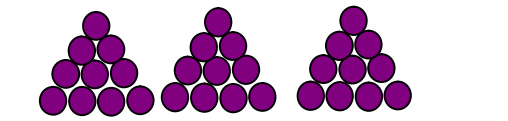
۳ ده‌تایی و ۴ یکتایی

یک‌ها	ده‌ها
۴	۳



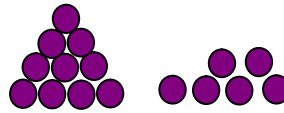
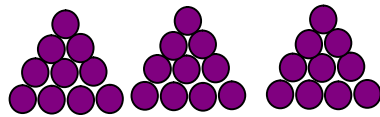
۳ ده‌تایی و ۳ یکتایی

یک‌ها	ده‌ها
۳	۱



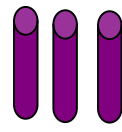

\_\_\_ ده‌تایی و \_\_\_ یکتایی

یک‌ها	ده‌ها



\_\_\_ ده‌تایی و \_\_\_ یکتایی

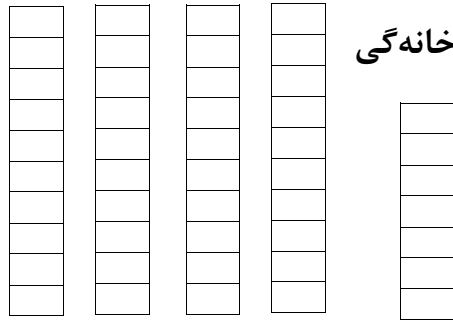
یک‌ها	ده‌ها



\_\_\_ ده‌تایی و \_\_\_ یکتایی

یک‌ها	ده‌ها

کارخانه‌گی



\_\_\_ ده‌تایی و \_\_\_ یکتایی

یک‌ها	ده‌ها





<p>۶۰ ده تایی می شود</p> <p>۳ ده تایی می شود</p> <p>۲ ده تایی می شود</p> <p>۵ ده تایی می شود</p> <p>۳ ده تایی می شود</p>	<p>۹۰ می شود ۹ دهی</p> <p>۴۰ می شود — ده تایی</p> <p>۶۰ می شود — ده تایی</p> <p>۷۰ می شود — ده تایی</p> <p>۸۰ می شود — ده تایی</p>
<p>۳۰ می شود ۳ ده تایی</p> <p>۵۰ می شود — ده تایی</p> <p>۲۰ می شود — ده تایی</p> <p>۴۰ می شود — ده تایی</p>	<p>۹ ده تایی ۹۰ می شود</p> <p>۳ ده تایی — می شود</p> <p>۸ ده تایی — می شود</p> <p>۵ ده تایی — می شود</p>
<p>با ۱۷ عدد یک زیاد شود <input type="text"/> ۱۸ می شود.</p> <p>با ۶۸ عدد دو زیاد شود <input type="text"/> می شود.</p>	<p>از ۱۶ یک کم شود <input type="text"/> ۱۵ می شود.</p> <p>از ۵۵ یک کم شود <input type="text"/> می شود.</p>
<p>با ۴۳ عدد یک زیاد شود <input type="text"/> می شود.</p> <p>با ۸۳ عدد یک زیاد شود <input type="text"/> می شود.</p>	<p><b>کارخانه گی</b></p> <p>در بین ۲۵ و ۲۷ عدد <input type="text"/> می باشد.</p> <p>در بین ۵۴ و ۵۶ عدد <input type="text"/> می باشد.</p>



هدف: شاگردان اعداد را تا ۹۹ نوشته کرده بتوانند و تسلسل آنها را بدانند.

۱			۴					
۱۱						۱۷		
	۲۲							
			۳۴					
				۴۵				
	۵۲					۵۸		۶۰
								۷۰
۷۱				۷۵				
		۸۳						۸۹
								۹۹



مشق و تمرین: ۲، ۲ و ۳، ۳ زیاد کردن و کم کردن



۲	۴			۱۰					۲۰
---	---	--	--	----	--	--	--	--	----

۲۰	۱۸			۱۲					۲
----	----	--	--	----	--	--	--	--	---

۳	۶			۱۲			۱۸		۲۴
---	---	--	--	----	--	--	----	--	----

۲۴	۲۱			۱۵			۹		۳
----	----	--	--	----	--	--	---	--	---

۷		۹							۱۵
---	--	---	--	--	--	--	--	--	----

۲۱	۱۸					۹			۳
----	----	--	--	--	--	---	--	--	---

کارخانه گی

۹	۱۲					۲۱			۲۷
---	----	--	--	--	--	----	--	--	----





## درس سی و پنجم

هدف: شاگردان سکه‌ها و بانک نوت‌ها را بشناسند و ارزش آن‌ها را بدانند.



- (۱) ۵۴ افغانی عبارت از (پنج ده و چهار یک) است.
- (۲) ۴۲ افغانی چند نوت ده افغانیگی و چند نوت یک افغانیگی می‌شود؟
- (۳) در ۷۵ افغانی چند ده افغانیگی و چند یک افغانیگی است؟
- (۴) عددی را نوشته کنید که ۷ ده افغانیگی و ۸ یک افغانیگی داشته باشد.
- (۵) عددی را بنویسید که ۹ ده افغانیگی و ۵ یک افغانیگی داشته باشد.
- (۶) شش ده افغانیگی را که با هفت یک افغانیگی جمع کنیم چند افغانی می‌شود؟
- (۷) سه ده افغانیگی و نه یک افغانیگی زیاد است یا نه ده افغانیگی و سه یک افغانیگی؟
- (۸) یک ده افغانیگی و شش یک افغانیگی زیاد است یا شش ده افغانیگی و یک، یک افغانیگی؟
- (۹) پنج ده افغانیگی و سه یک افغانیگی زیاد است و یا شش ده افغانیگی؟



هدف: مشق و تمرین شمارش و مقایسه اعداد

(۱) اعداد زیر را بخوانید.

۶۰ ، ۹۴ ، ۴۸ ، ۳۲ ، ۷۶ ، ۳۶ ، ۲۷

(۲) کدام عدد است که سه دهه افغانیگی و ۵ یک افغانیگی داشته باشد؟

(۳) آن عدد کدام است که ۶ دهه افغانیگی دارد؟

(۴) هفتاد چند دهه افغانیگی و چند یک افغانیگی دارد؟

(۵) عددی را نوشته کنید که ۴ دهه افغانیگی و صفر یک افغانیگی داشته باشد.

(۶) عدد ۳۵ زیاد است یا عدد ۵۳ آن را توسط علامت کم و زیاد نشان دهید.

(۷) در بین هر دو عدد داده شده زیر علامت مناسب ( $>$ ،  $<$ ،  $=$ ) را بنویسید.

$$۶۴ < ۹۷$$

$$۳۸ \quad ۶۹$$

$$۹۷ \quad ۷۹$$

$$۵۰ \quad ۴۹+۱$$

$$۲۵ \quad ۱۲$$

$$۲۸ \quad ۲۴+۴$$

کارخانه‌گی: چند یک افغانیگی ۱۵ می‌شود همچنان بگویید که ۱۵ چند یک افغانیگی و چند دهه افغانیگی دارد؟





مشق و تمرین: خواندن، نوشتن و شمارش اعداد دو رقمی



۱- هر یک از اعداد زیر، از چند ده‌ها و چند یک‌ها ساخته شده است؟

۲۵ ۱۶ ۴۷ ۶۷ ۹۸ ۸۳ ۵۹ ۳۱ ۷۷

۲۴ ۱۹ ۳۵ ۴۸ ۹۶ ۸۷ ۷۳ ۵۲ ۶۱

۲- عددی را بنویسید و بخوانید که ۸ ده‌ها و ۵ یک‌ها داشته باشد.

۳- عددی را بنویسید و بخوانید که ۹ ده‌ها و ۶ یک‌ها داشته باشد.

۴- هر یک از اعداد زیر را خوانده و یک‌ها و ده‌های

آن را نشان دهید:

۷۲ ۴۳ ۶۷ ۵۹ ۷۵ ۴۸ ۱۲ ۹۹

۵- کدام عدد ۷ ده‌ها و ۴ یک‌ها دارد؟

۶- کدام عدد ۶ ده‌ها و ۸ یک‌ها دارد؟

۷- کدام عدد ۹ ده‌ها و ۷ یک‌ها دارد؟

۸- کدام عدد ۴ ده‌ها و ۵ یک‌ها دارد؟

۹- \_\_\_ یک‌ها + \_\_\_ ده‌ها = ۸۴

۱۰- \_\_\_ یک‌ها + \_\_\_ ده‌ها = ۵۴

کارخانه‌گی

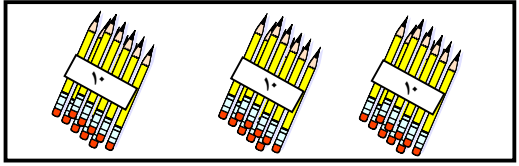
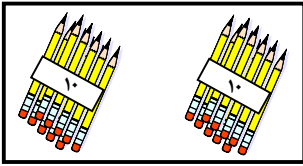
جدول‌های ذیل را تکمیل کنید.

۲۱				۲۵			۲۸		۳۱
۱۰	۲۰	۳۰						۹۰	







هدف: شاگردان به کمک اشیا اعداد را تا ۹۰ بشمارند و باهم مقایسه کنند.



$$20 < 30$$



$$40 > 30$$

$90 \square 70$

$80 \square 70$

$30 \square 40$

$40 \square 50$

$50 \square 60$

$60 \square 70$

$25 \square 52$

$36 \square 63$

$70 + 10 \square 80$

$80 \square 75$

$50 + 10 \square 70$

$30 \square 25$

$70 \square 90$

$65 \square 50$

کارخانه گی

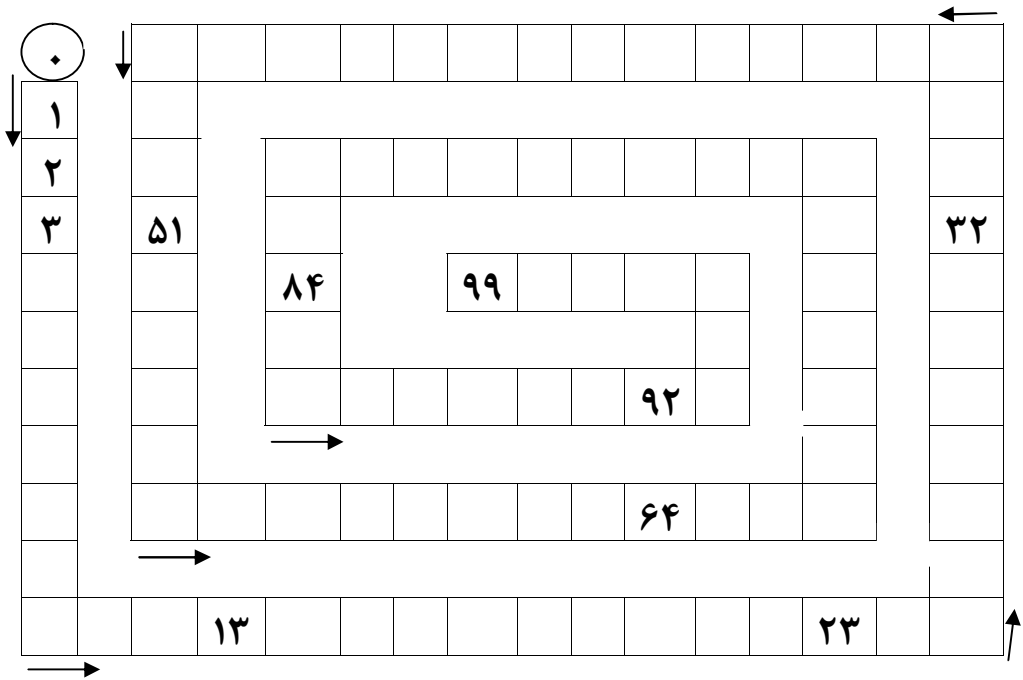
$40 \square 45$

$80 \square 80$



مشق و تمرین: خواندن، نوشتن و شمارش اعداد تا ۹۹

در جدول ذیل اعداد را به ترتیب بنویسید:



۲	۴	۸	۱۲	۱۶	۲۰	۲۶	۳۰
---	---	---	----	----	----	----	----

۳	۶	۹	۱۵	۲۱	۲۷	۳۳	۳۹	۴۵
---	---	---	----	----	----	----	----	----

## کارخانه‌گی

از عدد ۸ شروع کنید و ۲، ۲ را از آن کم کنید.  
از عدد ۹ شروع کنید و ۳، ۳ را از آن کم کنید.



مشق و تمرین: وصل کردن اعداد با نام آن‌ها

ده	۳۰	۳۲	هفتاد و هشت
بیست	۲۰	۵۶	چهارده
سی	۱۰	۷۸	سی و دو
چهل	۵۰	۱۴	پنجاه و شش
پنجاه	۴۰	۸۲	هشتاد و دو
شصت	۶۰	۴۷	بیست و پنج
هفتاد	۹۰	۹۳	شصت و دو
هشتاد	۷۰	۲۵	چهل و هفت
نود	۸۰	۶۲	نود و سه





$$\begin{array}{r} 10 \\ + 4 \\ \hline \end{array}$$

$$\begin{array}{r} 10 \\ + 7 \\ \hline \end{array}$$

$$\begin{array}{r} 13 \\ + 6 \\ \hline \end{array}$$

$$\begin{array}{r} 15 \\ + 2 \\ \hline \end{array}$$

$$\begin{array}{r} 10 \\ + 8 \\ \hline \end{array}$$

$$\begin{array}{r} 13 \\ + 5 \\ \hline \end{array}$$

$$\begin{array}{r} 18 \\ + 1 \\ \hline \end{array}$$

$$\begin{array}{r} 13 \\ + 4 \\ \hline \end{array}$$

$$\begin{array}{r} 12 \\ + 4 \\ \hline \end{array}$$

$$\begin{array}{r} 12 \\ + 6 \\ \hline \end{array}$$

$$\begin{array}{r} 17 \\ + 2 \\ \hline \end{array}$$

$$\begin{array}{r} 15 \\ + 4 \\ \hline \end{array}$$

$$\begin{array}{r} 13 \\ + 2 \\ \hline \end{array}$$

$$\begin{array}{r} 17 \\ + 1 \\ \hline \end{array}$$

$$\begin{array}{r} 11 \\ + 7 \\ \hline \end{array}$$

$$\begin{array}{r} 10 \\ + 3 \\ \hline \end{array}$$

$$\begin{array}{r} 11 \\ + 5 \\ \hline \end{array}$$

$$\begin{array}{r} 16 \\ + 2 \\ \hline \end{array}$$

$$\begin{array}{r} 16 \\ + 3 \\ \hline \end{array}$$

$$\begin{array}{r} 13 \\ + 6 \\ \hline \end{array}$$

کارخانه گی

$$\begin{array}{r} 12 \\ + 7 \\ \hline \end{array}$$

$$\begin{array}{r} 14 \\ + 3 \\ \hline \end{array}$$

$$\begin{array}{r} 19 \\ + 0 \\ \hline \end{array}$$

$$\begin{array}{r} 18 \\ + 1 \\ \hline \end{array}$$







مشق و تمرین: جمع کردن عدد یک رقمی با اعداد یک رقمی و دو رقمی



$$۴ + ۱۴ = ۱۸$$

$$۶ + ۵ =$$

$$۶ + ۶ =$$

$$۹ + ۴ =$$

$$۷ + ۷ =$$

$$۵ + ۹ =$$

$$۷ + ۸ =$$

$$۹ + ۷ =$$

$$۸ + ۹ =$$

$$۹ + ۱۰ =$$

$$۳ + ۳ = ۶$$

$$۶ + ۱۳ =$$

$$۱۲ + ۵ =$$

$$۵ + ۱۲ =$$

$$۱۳ + ۲ =$$

$$۷ + ۱۲ =$$

$$۷ + ۱۱ =$$

$$۱۵ + ۳ =$$

$$۴ + ۱۵ =$$

$$۱ + ۱۲ =$$

کارخانه گی

$$۱۱ + ۴ =$$

$$۱۶ + ۳ =$$

$$۱۲ + ۶ =$$

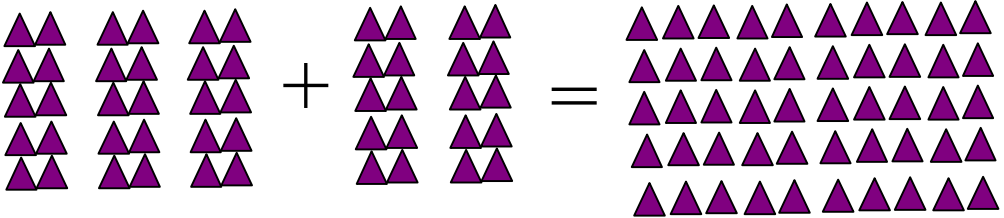
$$۸ + ۱۱ =$$





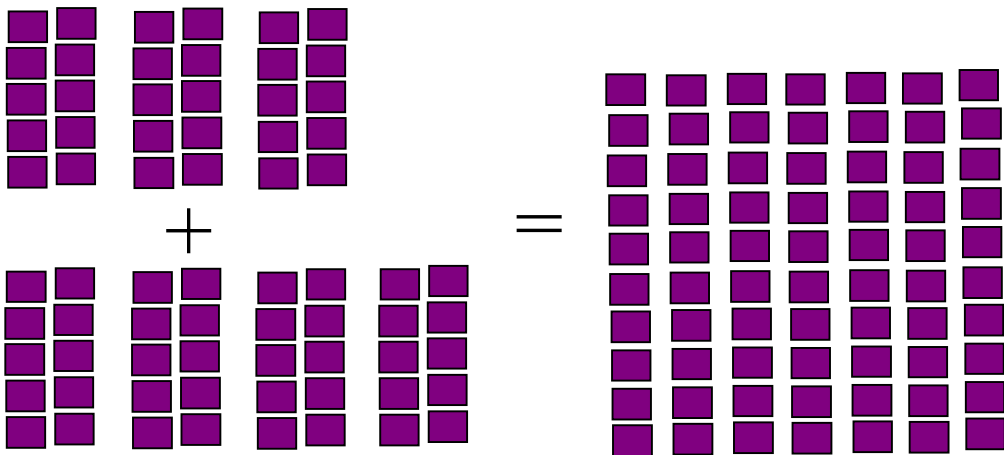
جمع ده‌های پوره

هدف: شاگردان اعداد دو رقمی را که رقم یک‌های آن‌ها صفر باشد جمع کرده بتوانند.



$$\begin{array}{r} 35 \\ + 20 \\ \hline 55 \end{array}$$

$$\begin{array}{r} 30 \\ + 20 \\ \hline 50 \end{array}$$

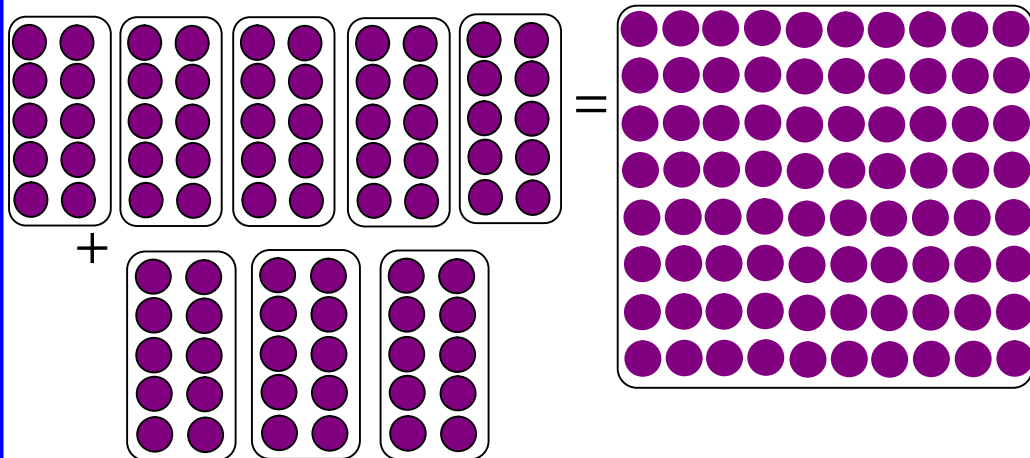


$$\begin{array}{r} 34 \\ + 40 \\ \hline 74 \end{array}$$

$$\begin{array}{r} 30 \\ + 40 \\ \hline 70 \end{array}$$

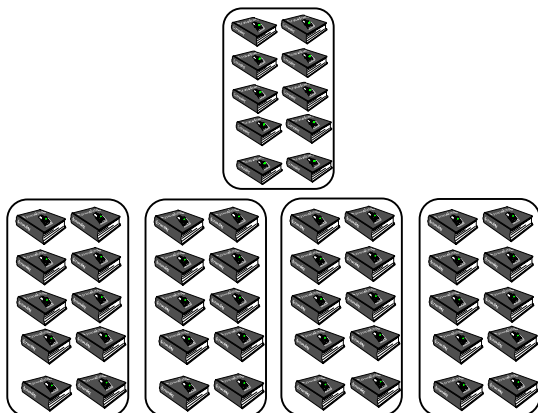


مشتق و تمرین: جمع کردن اعداد دو رقمی که رقم یک‌های آن‌ها صفر باشد.



$$\begin{array}{r} 50 \\ + 30 \\ \hline 80 \end{array}$$

$$\begin{array}{r} 50 \\ + 30 \\ \hline 80 \end{array}$$



$$\begin{array}{r} 10 \\ + 40 \\ \hline 50 \end{array}$$

$$\begin{array}{r} 10 \\ + 40 \\ \hline 50 \end{array}$$








درس سی و هشتم

جمع اعداد دو رقمی با یک رقمی

هدف: شاگردان عدد یک رقمی را با اعداد دو رقمی جمع کرده، طریق جمع آن را بدانند.



$$۱۲ + ۳ = ۱۵$$

$$\begin{array}{r} ۷۲ \\ + ۵ \\ \hline ۷۷ \end{array}$$

$$\begin{array}{r} ۳۴ \\ + ۳ \\ \hline \end{array}$$

$$\begin{array}{r} ۶۱ \\ + ۴ \\ \hline \end{array}$$

$$\begin{array}{r} ۱۲ \\ + ۳ \\ \hline ۱۵ \end{array}$$

$$۳۲ + ۵ = \square$$

$$۴۴ + ۲ = \square$$

$$۴۲ + ۶ = \square$$

$$۳۵ + ۴ = \square$$

$$\begin{array}{r} ۹۵ \\ + ۱ \\ \hline \end{array}$$

$$\begin{array}{r} ۳۶ \\ + ۲ \\ \hline \end{array}$$

$$\begin{array}{r} ۷۳ \\ + ۵ \\ \hline \end{array}$$

$$\begin{array}{r} ۹۱ \\ + ۸ \\ \hline \end{array}$$

کارخانه گی

$$۶۲ + ۶ = \square$$

$$۷۱ + ۴ = \square$$

$$۵۲ + ۳ = \square$$

$$۹۶ + ۲ = \square$$



مشق و تمرین: شاگردان اعداد یک‌رقمی را با اعداد دو رقمی جمع کرده بتوانند.

$۱۲ + ۵ = \square$

$۲۳ + ۶ = \square$

$۹۲ + ۳ = \square$

$۳۶ + ۲ = \square$

$۳۵ + ۲ = \square$

$۷۲ + ۷ = \square$

$۶۴ + ۴ = \square$

$۱۳ + ۳ = \square$

$۵۷ + ۲ = \square$

$۱۲ + ۴ = \square$

$$\begin{array}{r} ۱۴ \\ + ۵ \\ \hline \end{array}$$

$$\begin{array}{r} ۱۳ \\ + ۵ \\ \hline \end{array}$$

$$\begin{array}{r} ۹۱ \\ + ۷ \\ \hline \end{array}$$

$$\begin{array}{r} ۱۲ \\ + ۷ \\ \hline \end{array}$$

$$\begin{array}{r} ۳ \\ + ۱۴ \\ \hline \end{array}$$

$$\begin{array}{r} ۹ \\ + ۲۰ \\ \hline \end{array}$$

$$\begin{array}{r} ۸ \\ + ۱۱ \\ \hline \end{array}$$

$$\begin{array}{r} ۶ \\ + ۸۲ \\ \hline \end{array}$$

$$\begin{array}{r} ۵ \\ + ۱۲ \\ \hline \end{array}$$

$$\begin{array}{r} ۳ \\ + ۹۱ \\ \hline \end{array}$$






هدف: شاگردان اعداد دو رقمی را با اعداد دو رقمی جمع کرده بتوانند.



	<table border="1" style="border-collapse: collapse;"> <thead> <tr> <th style="padding: 5px;">دهها</th> <th style="padding: 5px;">یکها</th> </tr> </thead> <tbody> <tr> <td style="text-align: center; padding: 5px;">۲</td> <td style="text-align: center; padding: 5px;">۲</td> </tr> <tr> <td style="text-align: center; padding: 5px;">۱</td> <td style="text-align: center; padding: 5px;">۴</td> </tr> <tr> <td style="text-align: center; padding: 5px;">۳</td> <td style="text-align: center; padding: 5px;">۶</td> </tr> </tbody> </table>	دهها	یکها	۲	۲	۱	۴	۳	۶	<table style="border-collapse: collapse;"> <tr> <td style="padding: 5px;">یکها</td> <td style="padding: 5px;">دهها</td> </tr> <tr> <td style="text-align: center; padding: 5px;">۲</td> <td style="text-align: center; padding: 5px;">۲</td> </tr> <tr> <td style="text-align: center; padding: 5px;">۴</td> <td style="text-align: center; padding: 5px;">۱</td> </tr> <tr> <td style="border-top: 1px solid black; text-align: center; padding: 5px;">۶</td> <td style="border-top: 1px solid black; text-align: center; padding: 5px;">۳</td> </tr> </table>	یکها	دهها	۲	۲	۴	۱	۶	۳
دهها	یکها																	
۲	۲																	
۱	۴																	
۳	۶																	
یکها	دهها																	
۲	۲																	
۴	۱																	
۶	۳																	
	<table border="1" style="border-collapse: collapse;"> <thead> <tr> <th style="padding: 5px;">دهها</th> <th style="padding: 5px;">یکها</th> </tr> </thead> <tbody> <tr> <td style="text-align: center; padding: 5px;">۱</td> <td style="text-align: center; padding: 5px;">۵</td> </tr> <tr> <td style="text-align: center; padding: 5px;">۲</td> <td style="text-align: center; padding: 5px;">۱</td> </tr> </tbody> </table>	دهها	یکها	۱	۵	۲	۱	<table style="border-collapse: collapse;"> <tr> <td style="padding: 5px;">یکها</td> <td style="padding: 5px;">دهها</td> </tr> <tr> <td style="text-align: center; padding: 5px;">۵</td> <td style="text-align: center; padding: 5px;">۱</td> </tr> <tr> <td style="text-align: center; padding: 5px;">۱</td> <td style="text-align: center; padding: 5px;">۲</td> </tr> <tr> <td style="border-top: 1px solid black; text-align: center; padding: 5px;">۶</td> <td style="border-top: 1px solid black; text-align: center; padding: 5px;">۳</td> </tr> </table>	یکها	دهها	۵	۱	۱	۲	۶	۳		
دهها	یکها																	
۱	۵																	
۲	۱																	
یکها	دهها																	
۵	۱																	
۱	۲																	
۶	۳																	
	<table border="1" style="border-collapse: collapse;"> <thead> <tr> <th style="padding: 5px;">دهها</th> <th style="padding: 5px;">یکها</th> </tr> </thead> <tbody> <tr> <td style="text-align: center; padding: 5px;">۱</td> <td style="text-align: center; padding: 5px;">۲</td> </tr> <tr> <td style="text-align: center; padding: 5px;">۲</td> <td style="text-align: center; padding: 5px;">۶</td> </tr> </tbody> </table>	دهها	یکها	۱	۲	۲	۶	<table style="border-collapse: collapse;"> <tr> <td style="padding: 5px;">یکها</td> <td style="padding: 5px;">دهها</td> </tr> <tr> <td style="text-align: center; padding: 5px;">۲</td> <td style="text-align: center; padding: 5px;">۱</td> </tr> <tr> <td style="text-align: center; padding: 5px;">۶</td> <td style="text-align: center; padding: 5px;">۲</td> </tr> <tr> <td style="border-top: 1px solid black; text-align: center; padding: 5px;">۸</td> <td style="border-top: 1px solid black; text-align: center; padding: 5px;">۳</td> </tr> </table>	یکها	دهها	۲	۱	۶	۲	۸	۳		
دهها	یکها																	
۱	۲																	
۲	۶																	
یکها	دهها																	
۲	۱																	
۶	۲																	
۸	۳																	
	<table border="1" style="border-collapse: collapse;"> <thead> <tr> <th style="padding: 5px;">دهها</th> <th style="padding: 5px;">یکها</th> </tr> </thead> <tbody> <tr> <td style="text-align: center; padding: 5px;">۲</td> <td style="text-align: center; padding: 5px;">۷</td> </tr> <tr> <td style="text-align: center; padding: 5px;">۲</td> <td style="text-align: center; padding: 5px;">۲</td> </tr> </tbody> </table>	دهها	یکها	۲	۷	۲	۲	<table style="border-collapse: collapse;"> <tr> <td style="padding: 5px;">یکها</td> <td style="padding: 5px;">دهها</td> </tr> <tr> <td style="text-align: center; padding: 5px;">۷</td> <td style="text-align: center; padding: 5px;">۲</td> </tr> <tr> <td style="text-align: center; padding: 5px;">۲</td> <td style="text-align: center; padding: 5px;">۲</td> </tr> <tr> <td style="border-top: 1px solid black; text-align: center; padding: 5px;">۹</td> <td style="border-top: 1px solid black; text-align: center; padding: 5px;">۴</td> </tr> </table>	یکها	دهها	۷	۲	۲	۲	۹	۴		
دهها	یکها																	
۲	۷																	
۲	۲																	
یکها	دهها																	
۷	۲																	
۲	۲																	
۹	۴																	



هدف: شاگردان دو عدد دو رقمی را به طریقه‌های افقی و عمودی جمع کرده بتوانند.



$\begin{array}{r} 26 \\ + 53 \\ \hline 79 \end{array}$ $26 + 53 = 79$	$\begin{array}{r} 25 \\ + 31 \\ \hline 56 \end{array}$ $25 + 31 =$
$\begin{array}{r} 32 \\ + 16 \\ \hline \end{array}$ $32 + 16 =$	$\begin{array}{r} 14 \\ + 83 \\ \hline \end{array}$ $14 + 83 =$
$\begin{array}{r} 68 \\ + 11 \\ \hline \end{array}$ $68 + 11 =$	$\begin{array}{r} 33 \\ + 42 \\ \hline \end{array}$ $33 + 42 =$
$\begin{array}{r} 35 \\ + 34 \\ \hline \end{array}$ $35 + 34 =$	$\begin{array}{r} 12 \\ + 64 \\ \hline \end{array}$ $12 + 64 =$
$\begin{array}{r} 12 \\ + 46 \\ \hline \end{array}$ $\begin{array}{r} 37 \\ + 42 \\ \hline \end{array}$	<p>کارخانه‌گی</p> $37 + 42 =$ $12 + 46 =$



مشق و تمرین: جمع کردن دو عدد دو رقمی



یک‌ها ده‌ها

$$\begin{array}{r} 24 \\ 32 \\ \hline + \end{array}$$

یک‌ها ده‌ها

$$\begin{array}{r} 65 \\ 34 \\ \hline + \end{array}$$

یک‌ها ده‌ها

$$\begin{array}{r} 81 \\ 10 \\ \hline + \end{array}$$

$$\begin{array}{r} 72 \\ + 16 \\ \hline \end{array}$$

$$\begin{array}{r} 55 \\ + 32 \\ \hline \end{array}$$

$$\begin{array}{r} 33 \\ + 55 \\ \hline \end{array}$$

$$\begin{array}{r} 32 \\ + 55 \\ \hline \end{array}$$

$$\begin{array}{r} 45 \\ + 54 \\ \hline \end{array}$$

$$\begin{array}{r} 38 \\ + 61 \\ \hline \end{array}$$

$$\begin{array}{r} 21 \\ + 14 \\ \hline \end{array}$$

$$\begin{array}{r} 12 \\ + 41 \\ \hline \end{array}$$

$$\begin{array}{r} 14 \\ + 64 \\ \hline \end{array}$$

کارخانه‌گی

$$\begin{array}{r} 20 \\ + 70 \\ \hline \end{array}$$

$$\begin{array}{r} 66 \\ + 13 \\ \hline \end{array}$$

$$\begin{array}{r} 57 \\ + 12 \\ \hline \end{array}$$



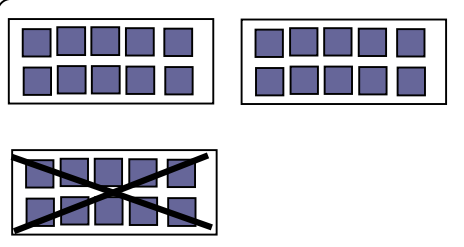
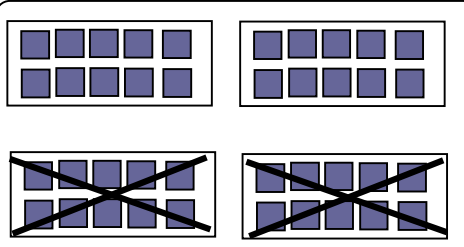
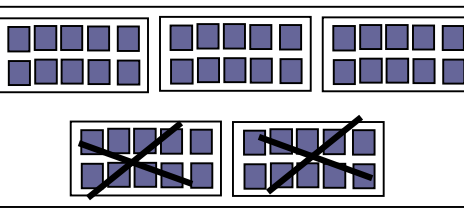




درس چهل و یکم

### تفریق دو عدد دو رقمی صفر دار

هدف: شاگردان از اعداد دو رقمی، اعداد دو رقمی را که یک‌های آن صفر باشد تفریق کرده بتوانند.

	$\begin{array}{r} 30 \\ - 10 \\ \hline 20 \end{array}$ <p style="text-align: center;">۳ ده‌تایی - ۱ ده‌تایی ————— ۲ ده‌تایی</p>
	$2 \text{ ده‌تایی} = 4 \text{ ده‌تایی} - 2 \text{ ده‌تایی}$ $40 - 20 = 20$
	$3 \text{ ده‌تایی} = 5 \text{ ده‌تایی} - 2 \text{ ده‌تایی}$ $50 - 20 = 30$
$\begin{array}{r} 60 \\ - 30 \\ \hline 30 \end{array}$	$\begin{array}{r} 50 \\ - 30 \\ \hline \end{array}$
$\begin{array}{r} 80 \\ - 20 \\ \hline \end{array}$	$\begin{array}{r} 70 \\ - 40 \\ \hline \end{array}$



مشق و تمرین: تفریق اعداد دو رقمی از اعداد دو رقمی که یک‌های آن‌ها صفر باشد.

$$70 - 30 = 40$$

$$\begin{array}{r} 70 \\ - 30 \\ \hline 40 \end{array}$$

$$80 - 30 =$$

$$\begin{array}{r} 80 \\ - 30 \\ \hline \end{array}$$

$$60 - 20 =$$

$$\begin{array}{r} 60 \\ - 20 \\ \hline \end{array}$$

$$70 - 50 =$$

$$\begin{array}{r} 70 \\ - 50 \\ \hline \end{array}$$

کارخانه‌گی

$$90 - 20 =$$

$$\begin{array}{r} 90 \\ - 20 \\ \hline \end{array}$$





تفریق اعداد دورقمی از دورقمی

هدف: شاگردان بتوانند اعداد دورقمی را از اعداد دورقمی تفریق کنند و در عملیۀ تفریق، یک‌ها و ده‌ها را در نظر بگیرند.



$$35 - 12 = 23$$

$$\begin{array}{r} 35 \\ - 12 \\ \hline 23 \end{array}$$

ده‌ها	یک‌ها
۵	۵
- ۲	۱
<hr/>	<hr/>
۳	۴

ده‌ها	یک‌ها
۳	۳
- ۱	۱
<hr/>	<hr/>
۲	۲

ده‌ها	یک‌ها
۵	۸
- ۲	۶
<hr/>	<hr/>

ده‌ها	یک‌ها
۸	۷
- ۱	۲
<hr/>	<hr/>

ده‌ها	یک‌ها
۷	۷
- ۵	۳
<hr/>	<hr/>

ده‌ها	یک‌ها
۸	۶
- ۶	۲
<hr/>	<hr/>



مشق و تمرین: تفریق اعداد دو رقمی از اعداد دو رقمی به طریقه‌های افقی و

عمودی



$$\begin{array}{r} 64 \\ - 12 \\ \hline \end{array}$$

$$79 - 32 =$$

$$\begin{array}{r} 98 \\ - 64 \\ \hline \end{array}$$

$$88 - 24 =$$

$$\begin{array}{r} 78 \\ - 46 \\ \hline \end{array}$$

$$57 - 41 =$$

$$\begin{array}{r} 97 \\ - 32 \\ \hline \end{array}$$

$$66 - 23 =$$

$$\begin{array}{r} 75 \\ - 52 \\ \hline \end{array}$$

کارخانه‌گی

$$48 - 35 =$$



مشق و تمرین: عملیه‌های جمع و تفریق اعداد دو رقمی به شکل عمودی

$$\begin{array}{r} ۴۹ \\ + ۲۰ \\ \hline \end{array}$$

$$\begin{array}{r} ۷۲ \\ + ۳۴ \\ \hline \end{array}$$

$$\begin{array}{r} ۴۶ \\ + ۳۰ \\ \hline \end{array}$$

$$\begin{array}{r} ۴۶ \\ - ۱۶ \\ \hline \end{array}$$

$$\begin{array}{r} ۳۳ \\ + ۱۶ \\ \hline \end{array}$$

$$\begin{array}{r} ۵۱ \\ + ۱۴ \\ \hline \end{array}$$

$$\begin{array}{r} ۴۵ \\ - ۴۱ \\ \hline \end{array}$$

$$\begin{array}{r} ۱۸ \\ + ۸۱ \\ \hline \end{array}$$

$$\begin{array}{r} ۵۲ \\ - ۳۲ \\ \hline \end{array}$$

$$\begin{array}{r} ۷۲ \\ - ۴۰ \\ \hline \end{array}$$

$$\begin{array}{r} ۴۰ \\ + ۲۲ \\ \hline \end{array}$$

$$\begin{array}{r} ۵۹ \\ - ۳۰ \\ \hline \end{array}$$

$$\begin{array}{r} ۵۸ \\ - ۱۵ \\ \hline \end{array}$$

$$\begin{array}{r} ۴۵ \\ + ۲۴ \\ \hline \end{array}$$

$$\begin{array}{r} ۶۹ \\ - ۵۶ \\ \hline \end{array}$$

کارخانه‌گی

$$\begin{array}{r} ۲۸ \\ + ۳۰ \\ \hline \end{array}$$

$$\begin{array}{r} ۴۲ \\ - ۲۲ \\ \hline \end{array}$$

$$\begin{array}{r} ۶۷ \\ - ۴۲ \\ \hline \end{array}$$





مشق و تمرین: عملیه‌های جمع و تفریق اعداد دو رقمی به شکل افقی



$95 - 10 = \square$

$34 - 12 = \square$

$67 - 32 = \square$

$48 - 25 = \square$

$37 - 30 = \square$

$67 - 45 = \square$

$82 + 11 = \square$

$95 - 11 = \square$

$93 - 82 = \square$

$45 + 34 = \square$

$79 - 45 = \square$

$79 - 34 = \square$

$64 + 23 = \square$

$60 + 30 = \square$

$54 + 32 = \square$

کارخانه‌گی

$72 - 21 = \square$

$44 + 24 = \square$

$92 + 7 = \square$



هدف: شاگردان سؤال‌های عبارتی جمع و تفریق را بخوانند و حل کرده بتوانند.

۱- مجموع رکعت‌های نماز صبح و نماز ظهر چند رکعت می‌شود؟

۲- در یک شاخهٔ درخت ۶ گنجشک نشسته بود و ۳ گنجشک دیگر هم در پهلوی آن‌ها نشستند. حال در شاخهٔ درخت، چند گنجشک نشسته است؟

۳- لطیفه ۷ پنسل داشت و ۱۱ پنسل دیگر را از بازار خرید حال لطیفه چند پنسل دارد؟

۴- احمد ۷ چهارمغز داشت ۵ چهارمغز دیگر را نیز خرید حال احمد، چند چهارمغز دارد؟

۵- در یک باغ ۸ نهال موجود بود، باغبان ۶ نهال تازه را در باغ خود نشاند، حالا باغبان در باغ خود، چند نهال دارد؟

۶- زلمی ۱۲ افغانی داشت، ۱۶ افغانی پدرش برایش داد؛ حال زلمی، چند افغانی دارد؟

۷- اعدادی را که بین ۱۲ و ۱۹ قرار دارند بنویسید.



۸- یک دهقان ۶۰ گوسفند داشت، ۲۰ گوسفند دیگر خرید، حال چند گوسفند دارد؟

۹- احمد ۵۰ افغانی داشت، ۴۰ افغانی دیگر مادرش برایش داد؛ حالا احمد چند افغانی دارد؟

۱۰- محمود ۸ دانه سیب داشت ۲ دانه آن را برای برادرش داد چند دانه سیب نزد محمود باقی مانده است؟

۱۱- یک شاگرد ۲۸ افغانی داشت ۱۴ افغانی آن را قلم و کتابچه خرید، چند افغانی نزد او باقی مانده است؟

۱۲- در یک الماری ۷۰ جلد کتاب ریاضی و دری موجود است، اگر ۲۰ جلد آن کتب دری باشد، چند جلد آن ریاضی است؟

